

Тренировочная работа №1 по МАТЕМАТИКЕ

11 класс

3 октября 2023 года

Вариант МА2310101

Выполнена: ФИО _____ класс _____

Инструкция по выполнению работы

Работа по математике включает в себя 21 задание.

На выполнение работы отводится 3 часа (180 минут).

Ответы к заданиям записываются в виде числа или последовательности цифр в поле ответа в тексте работы.

При выполнении заданий можно пользоваться черновиком. Записи в черновике не учитываются при оценивании работы. Баллы, полученные Вами за выполненные задания, суммируются. Постарайтесь выполнить как можно больше заданий и набрать наибольшее количество баллов.

Желаем успеха!

Ответом к каждому заданию является конечная десятичная дробь, целое число или последовательность цифр. Запишите ответы к заданиям в поле ответа в тексте работы.

- 1** Каждый день во время конференции расходуется 90 пакетиков чая. Конференция длится 9 дней. В пачке чая 100 пакетиков. Какого наименьшего количества пачек чая хватит на все дни конференции?

Ответ: _____.

- 2** Установите соответствие между величинами и их возможными значениями: к каждому элементу первого столбца подберите соответствующий элемент из второго столбца.

ВЕЛИЧИНЫ

ЗНАЧЕНИЯ

- | | |
|--|-----------------------|
| А) объём воды в Онежском озере | 1) 0,5 л |
| Б) объём бутылки воды | 2) 60 м^3 |
| В) объём туристического рюкзака для взрослого человека | 3) 90 л |
| Г) объём контейнера для мебели | 4) 295 км^3 |

В таблице под каждой буквой, соответствующей величине, укажите номер её возможного значения.

Ответ:

А	Б	В	Г

- 3** В таблице показано расписание пригородных электропоездов по направлению Москва Октябрьская – Тверь.

Номер электропоезда	Москва Октябрьская	Тверь	Время в пути
1	05:26	08:09	2:43
2	05:44	07:29	1:45
3	06:34	08:18	1:44
4	07:45	09:31	1:46
5	08:40	10:19	1:39

Какой из электропоездов Москва Октябрьская – Тверь проводит в пути меньше всего времени? В ответе укажите номер этого электропоезда.

Ответ: _____.

- 4 Энергия заряженного конденсатора W (в Дж) вычисляется по формуле $W = \frac{CU^2}{2}$, где C — ёмкость конденсатора (в Ф), а U — разность потенциалов на обкладках конденсатора (в В). Найдите W (в Дж), если $C = 2 \cdot 10^{-4}$ Ф и $U = 5$ В.

Ответ: _____.

- 5 Вероятность того, что батарейка бракованная, равна 0,15. Покупатель в магазине выбирает случайную упаковку, в которой две такие батарейки. Найдите вероятность того, что обе батарейки окажутся бракованными.

Ответ: _____.

- 6 В таблице 1 приведены минимальные баллы ЕГЭ по четырём предметам, необходимые для подачи документов на факультеты 1–6.

Таблица 1

Предмет Факультет	математика (проф. ур.)	русский язык	физика	химия
1	27	40	36	45
2	40	36	36	50
3	27	36	51	51
4	60	36	60	36
5	55	55	55	55
6	45	36	45	45

В таблице 2 приведены данные о баллах ЕГЭ по четырём предметам абитуриента В.

Таблица 2

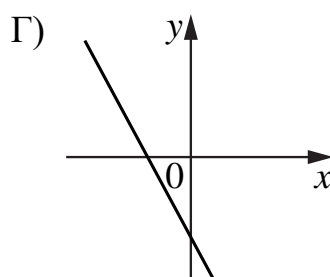
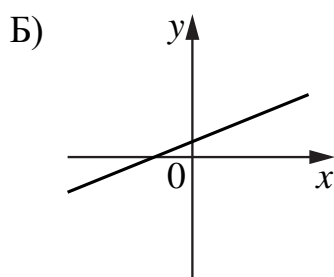
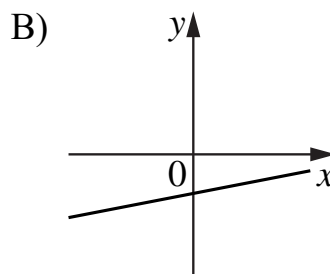
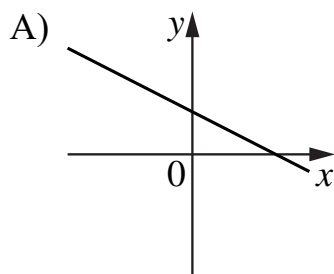
Предмет	математика (проф. ур.)	русский язык	физика	химия
Баллы	75	88	48	45

Выберите факультеты, на которые может подавать документы абитуриент В. В ответе укажите номера всех выбранных факультетов без пробелов, запятых и других дополнительных символов.

Ответ: _____.

7 На рисунках изображены графики функций вида $y = kx + b$. Установите соответствие между графиками функций и знаками коэффициентов k и b .

ФУНКЦИИ



КОЭФФИЦИЕНТЫ

- 1) $k > 0, b > 0$
- 2) $k > 0, b < 0$
- 3) $k < 0, b > 0$
- 4) $k < 0, b < 0$

В таблице под каждой буквой укажите соответствующий номер.

Ответ:

А	Б	В	Г

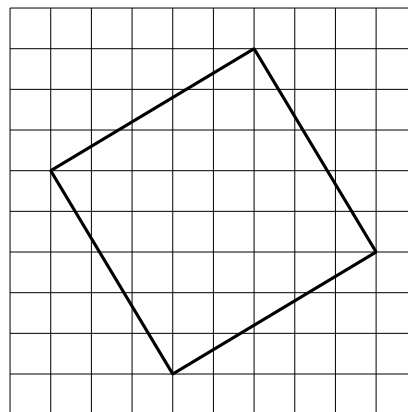
8 Каждый раз, когда Надя приезжает в деревню к бабушке в гости, бабушка заплетает ей косички. Также Надя заплетает себе косички всегда, когда идёт на физкультуру. Выберите утверждения, которые верны при приведённых условиях.

- 1) Каждый раз, когда у Нади заплетены косички, она находится в деревне.
- 2) Если Надя без косичек, значит, она не у бабушки в гостях.
- 3) Если Надя без косичек, значит, сегодня физкультура.
- 4) Когда Надя сдаёт норматив по бегу на физкультуре, она с косичками.

В ответе запишите номера выбранных утверждений без пробелов, запятых и других дополнительных символов.

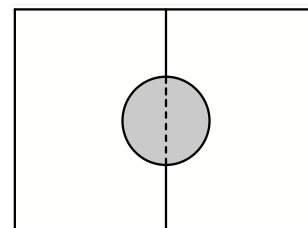
Ответ: _____.

- 9** План местности разбит на клетки. Каждая клетка обозначает квадрат $1\text{ м} \times 1\text{ м}$. Найдите площадь участка, выделенного на плане. Ответ дайте в квадратных метрах.



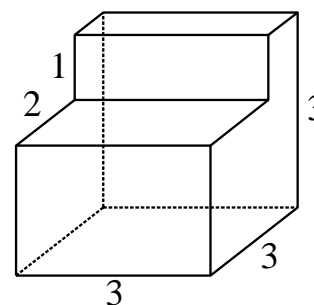
Ответ: _____.

- 10** Два садовода, имеющие прямоугольные участки размерами 20 м на 30 м с общей границей, договорились и сделали общий круглый пруд площадью 280 квадратных метров (см. чертёж), причём граница участков проходит точно через центр пруда. Какова площадь (в квадратных метрах) оставшейся части участка каждого садовода?



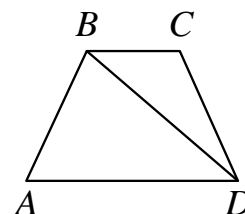
Ответ: _____.

- 11** Деталь имеет форму изображённого на рисунке многогранника (все двугранные углы прямые). Числа на рисунке обозначают длины рёбер в сантиметрах. Найдите объём этой детали. Ответ дайте в кубических сантиметрах.



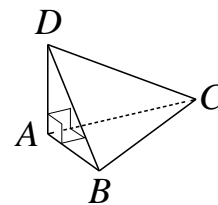
Ответ: _____.

- 12** В трапеции $ABCD$ известно, что $AB = CD$, $\angle BDA = 54^\circ$ и $\angle BDC = 32^\circ$. Найдите угол ABD . Ответ дайте в градусах.



Ответ: _____.

- 13** В треугольной пирамиде $ABCD$ рёбра AB , AC и AD взаимно перпендикулярны. Найдите объём этой пирамиды, если $AB = 2$, $AC = 15$ и $AD = 7$.



Ответ: _____.

- 14** Найдите значение выражения $\frac{9,4 - 1,3}{1,8}$.

Ответ: _____.

- 15** В школе мальчики составляют 54 % от числа всех учащихся. Сколько в этой школе всего учащихся, если девочек в ней на 60 человек меньше, чем мальчиков?

Ответ: _____.

- 16** Найдите значение выражения $-15 \cos 630^\circ$.

Ответ: _____.

- 17** Найдите корень уравнения $3^{2x-6} \cdot 3^{7-x} = 81$.

Ответ: _____.

18 Каждому из четырёх неравенств в левом столбце соответствует одно из решений в правом столбце. Установите соответствие между неравенствами и их решениями.

НРАВЕНСТВА

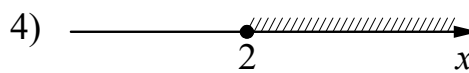
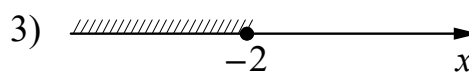
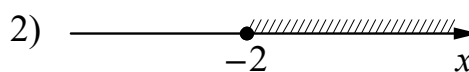
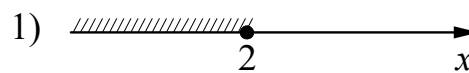
РЕШЕНИЯ

А) $0,5^x \geq 4$

Б) $2^x \geq 4$

В) $0,5^x \leq 4$

Г) $2^x \leq 4$



Впишите в приведённую в ответе таблицу под каждой буквой соответствующий решению номер.

Ответ:

А	Б	В	Г

19 Найдите четырёхзначное число, кратное 22, произведение цифр которого равно 24. В ответе укажите какое-нибудь одно такое число.

Ответ: _____.

20 Имеется два сплава. Первый сплав содержит 35 % меди, второй — 5 % меди. Из этих двух сплавов получили третий сплав, содержащий 30 % меди. Масса первого сплава равна 100 кг. Найдите массу третьего сплава. Ответ дайте в килограммах.

Ответ: _____.

21 Клетки таблицы 6×4 раскрашены в чёрный и белый цвета так, что получилось 19 пар соседних клеток разного цвета и 15 пар соседних клеток чёрного цвета. (Клетки считаются соседними, если у них есть общая сторона.) Сколько пар соседних клеток белого цвета?

Ответ: _____.

Тренировочная работа №1 по МАТЕМАТИКЕ

11 класс

3 октября 2023 года

Вариант МА2310102

Выполнена: ФИО _____ класс _____

Инструкция по выполнению работы

Работа по математике включает в себя 21 задание.

На выполнение работы отводится 3 часа (180 минут).

Ответы к заданиям записываются в виде числа или последовательности цифр в поле ответа в тексте работы.

При выполнении заданий можно пользоваться черновиком. Записи в черновике не учитываются при оценивании работы. Баллы, полученные Вами за выполненные задания, суммируются. Постарайтесь выполнить как можно больше заданий и набрать наибольшее количество баллов.

Желаем успеха!

Ответом к каждому заданию является конечная десятичная дробь, целое число или последовательность цифр. Запишите ответы к заданиям в поле ответа в тексте работы.

- 1** Каждый день во время конференции расходуется 80 пакетиков чая. Конференция длится 7 дней. В пачке чая 50 пакетиков. Какого наименьшего количества пачек чая хватит на все дни конференции?

Ответ: _____.

- 2** Установите соответствие между величинами и их возможными значениями: к каждому элементу первого столбца подберите соответствующий элемент из второго столбца.

ВЕЛИЧИНЫ	ЗНАЧЕНИЯ
А) объём железнодорожного вагона	1) 300 л
Б) объём бытового холодильника	2) 120 м^3
В) объём воды в Ладожском озере	3) 908 км^3
Г) объём пакета сока	4) 1,5 л

В таблице под каждой буквой, соответствующей величине, укажите номер её возможного значения.

Ответ:

А	Б	В	Г

- 3** В таблице показано расписание пригородных электропоездов по направлению Москва Смоленская – Бородино.

Номер электропоезда	Москва Смоленская	Бородино	Время в пути
1	06:18	08:20	2:02
2	07:51	10:09	2:18
3	09:52	12:19	2:27
4	15:24	17:24	2:00
5	17:26	19:40	2:14

Какой из электропоездов Москва Смоленская – Бородино проводит в пути меньше всего времени? В ответе укажите номер этого электропоезда.

Ответ: _____.

- 4 Энергия заряженного конденсатора W (в Дж) вычисляется по формуле $W = \frac{CU^2}{2}$, где C — ёмкость конденсатора (в Ф), а U — разность потенциалов на обкладках конденсатора (в В). Найдите W (в Дж), если $C = 10^{-4}$ Ф и $U = 14$ В.

Ответ: _____.

- 5 Вероятность того, что батарейка бракованная, равна 0,4. Покупатель в магазине выбирает случайную упаковку, в которой две такие батарейки. Найдите вероятность того, что обе батарейки окажутся бракованными.

Ответ: _____.

- 6 В таблице 1 приведены минимальные баллы ЕГЭ по четырём предметам, необходимые для подачи документов на факультеты 1–6.

Таблица 1

Предмет Факультет	русский язык	обществознание	история	иностраннный язык (английский)
1	50	60	60	50
2	27	42	32	40
3	40	70	32	60
4	36	42	50	22
5	27	65	32	55
6	27	42	60	22

В таблице 2 приведены данные о баллах ЕГЭ по четырём предметам абитуриента В.

Таблица 2

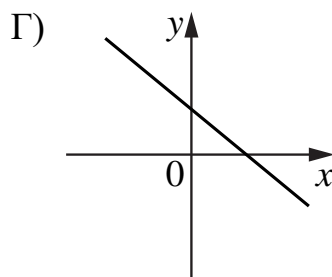
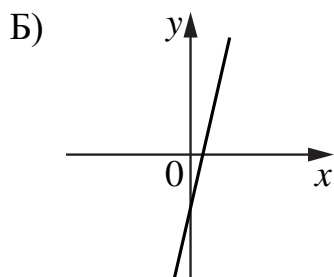
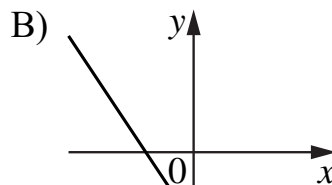
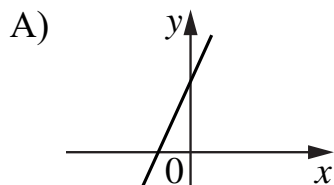
Предмет	русский язык	обществознание	история	английский язык
Баллы	68	65	58	64

Выберите факультеты, на которые может подавать документы абитуриент В. В ответе укажите номера всех выбранных факультетов без пробелов, запятых и других дополнительных символов.

Ответ: _____.

7 На рисунках изображены графики функций вида $y = kx + b$. Установите соответствие между графиками функций и знаками коэффициентов k и b .

ФУНКЦИИ



КОЭФФИЦИЕНТЫ

- 1) $k < 0, b > 0$
- 2) $k > 0, b < 0$
- 3) $k > 0, b > 0$
- 4) $k < 0, b < 0$

В таблице под каждой буквой укажите соответствующий номер.

Ответ:

А	Б	В	Г

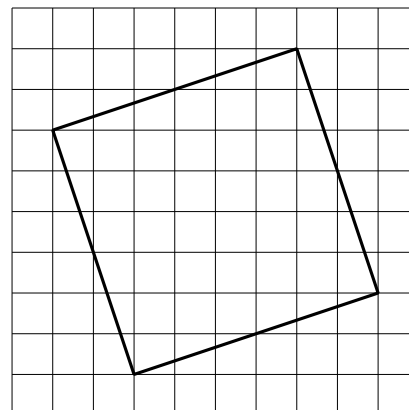
8 В 9 «Б» классе география по расписанию по средам и пятницам. Каждый ученик должен приносить атлас на каждый урок географии. На других уроках атлас не требуется. Выберите утверждения, которые верны при приведённых условиях.

- 1) Всякий день, когда ученик 9 «Б» класса берёт с собой в школу атлас, является пятницей.
- 2) В среду Маше из 9 «Б» класса надо принести в школу атлас.
- 3) По четвергам ученикам 9 «Б» класса не надо брать в школу географический атлас.
- 4) В каждый день, отличный от среды, ученикам 9 «Б» класса атлас можно в школу не брать.

В ответе запишите номера выбранных утверждений без пробелов, запятых и других дополнительных символов.

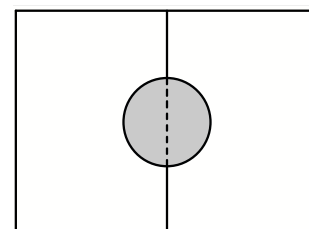
Ответ: _____.

9 План местности разбит на клетки. Каждая клетка обозначает квадрат $1\text{ м} \times 1\text{ м}$. Найдите площадь участка, выделенного на плане. Ответ дайте в квадратных метрах.



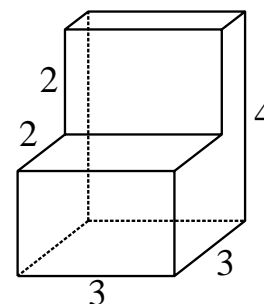
Ответ: _____.

10 Два садовода, имеющие прямоугольные участки размерами 24 м на 30 м с общей границей, договорились и сделали общий круглый пруд площадью 140 квадратных метров (см. чертёж), причём граница участков проходит точно через центр пруда. Какова площадь (в квадратных метрах) оставшейся части участка каждого садовода?



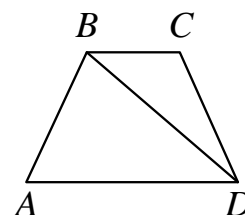
Ответ: _____.

- 11** Деталь имеет форму изображённого на рисунке многогранника (все двугранные углы прямые). Числа на рисунке обозначают длины рёбер в сантиметрах. Найдите объём этой детали. Ответ дайте в кубических сантиметрах.



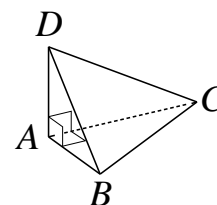
Ответ: _____.

- 12** В трапеции $ABCD$ известно, что $AB = CD$, $\angle BDA = 50^\circ$ и $\angle BDC = 33^\circ$. Найдите угол ABD . Ответ дайте в градусах.



Ответ: _____.

- 13** В треугольной пирамиде $ABCD$ рёбра AB , AC и AD взаимно перпендикулярны. Найдите объём этой пирамиды, если $AB = 3$, $AC = 18$ и $AD = 7$.



Ответ: _____.

- 14** Найдите значение выражения $\frac{4,7 - 1,4}{7,5}$.

Ответ: _____.

- 15** В школе мальчики составляют 53 % числа всех учащихся. Сколько в этой школе всего учащихся, если девочек в ней на 24 человека меньше, чем мальчиков?

Ответ: _____.

16 Найдите значение выражения $40\sqrt{3} \sin 780^\circ$.

Ответ: _____.

17 Найдите корень уравнения $2^{3x+4} \cdot 2^{5-2x} = 64$.

Ответ: _____.

18 Каждому из четырёх неравенств в левом столбце соответствует одно из решений в правом столбце. Установите соответствие между неравенствами и их решениями.

НЕРАВЕНСТВА

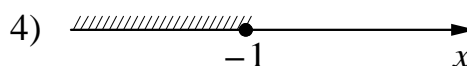
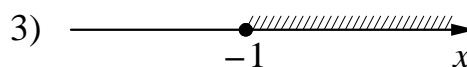
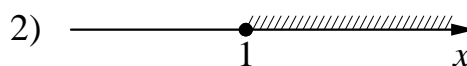
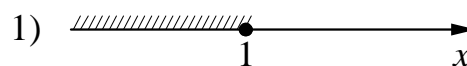
А) $3^x \geq \frac{1}{3}$

Б) $\left(\frac{1}{3}\right)^x \geq \frac{1}{3}$

В) $\left(\frac{1}{3}\right)^x \leq \frac{1}{3}$

Г) $3^x \leq \frac{1}{3}$

РЕШЕНИЯ



Впишите в приведённую в ответе таблицу под каждой буквой соответствующий решению номер.

Ответ:

А	Б	В	Г

19 Найдите пятизначное число, кратное 12, произведение цифр которого равно 40. В ответе укажите какое-нибудь одно такое число.

Ответ: _____.

20 Имеется два сплава. Первый сплав содержит 50 % меди, второй — 15 % меди. Из этих двух сплавов получили третий сплав, содержащий 45 % меди. Масса первого сплава равна 30 кг. Найдите массу третьего сплава. Ответ дайте в килограммах.

Ответ: _____.

21 Клетки таблицы 4×5 раскрашены в чёрный и белый цвета так, что получилось 15 пар соседних клеток разного цвета и 11 пар соседних клеток чёрного цвета. (Клетки считаются соседними, если у них есть общая сторона.) Сколько пар соседних клеток белого цвета?

Ответ: _____.

Тренировочная работа №1 по МАТЕМАТИКЕ

11 класс

3 октября 2023 года

Вариант МА2310103

Выполнена: ФИО _____ класс _____

Инструкция по выполнению работы

Работа по математике включает в себя 21 задание.

На выполнение работы отводится 3 часа (180 минут).

Ответы к заданиям записываются в виде числа или последовательности цифр в поле ответа в тексте работы.

При выполнении заданий можно пользоваться черновиком. Записи в черновике не учитываются при оценивании работы. Баллы, полученные Вами за выполненные задания, суммируются. Постарайтесь выполнить как можно больше заданий и набрать наибольшее количество баллов.

Желаем успеха!

Ответом к каждому заданию является конечная десятичная дробь, целое число или последовательность цифр. Запишите ответы к заданиям в поле ответа в тексте работы.

- 1** Каждый день во время конференции расходуется 60 пакетиков чая. Конференция длится 9 дней. В пачке чая 100 пакетиков. Какого наименьшего количества пачек чая хватит на все дни конференции?

Ответ: _____.

- 2** Установите соответствие между величинами и их возможными значениями: к каждому элементу первого столбца подберите соответствующий элемент из второго столбца.

ВЕЛИЧИНЫ	ЗНАЧЕНИЯ
А) объём воды в озере Байкал	1) 1 л
Б) объём пакета кефира	2) 23 615,39 км ³
В) объём бассейна	3) 72 л
Г) объём ящика для фруктов	4) 600 м ³

В таблице под каждой буквой, соответствующей величине, укажите номер её возможного значения.

Ответ:

А	Б	В	Г

- 3** В таблице показано расписание пригородных электропоездов по направлению Москва Октябрьская – Тверь.

Номер электропоезда	Москва Октябрьская	Тверь	Время в пути
1	18:36	20:17	1:41
2	19:37	22:26	2:49
3	19:45	21:28	1:43
4	20:44	23:24	2:40
5	21:00	22:42	1:42

Какой из электропоездов Москва Октябрьская – Тверь проводит в пути меньше всего времени? В ответе укажите номер этого электропоезда.

Ответ: _____.

- 4 Энергия заряженного конденсатора W (в Дж) вычисляется по формуле $W = \frac{CU^2}{2}$, где C — ёмкость конденсатора (в Ф), а U — разность потенциалов на обкладках конденсатора (в В). Найдите W (в Дж), если $C = 10^{-4}$ Ф и $U = 12$ В.

Ответ: _____.

- 5 Вероятность того, что батарейка бракованная, равна 0,5. Покупатель в магазине выбирает случайную упаковку, в которой две такие батарейки. Найдите вероятность того, что обе батарейки окажутся бракованными.

Ответ: _____.

- 6 В таблице 1 приведены минимальные баллы ЕГЭ по четырём предметам, необходимые для подачи документов на факультеты 1–6.

Таблица 1

Предмет Факультет	математика (проф. ур.)	русский язык	биология	химия
1	60	36	50	36
2	40	40	36	55
3	40	40	50	50
4	27	61	60	40
5	27	51	36	36
6	27	36	65	45

В таблице 2 приведены данные о баллах ЕГЭ по четырём предметам абитуриента В.

Таблица 2

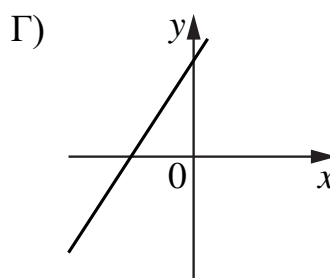
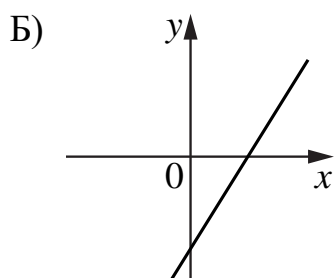
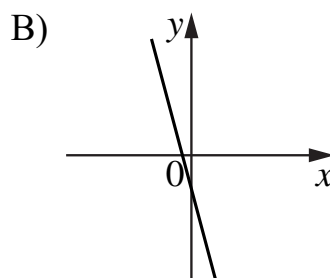
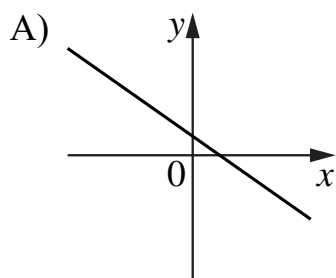
Предмет	математика (проф. ур.)	русский язык	биология	химия
Баллы	42	55	62	52

Выберите факультеты, на которые может подавать документы абитуриент В. В ответе укажите номера всех выбранных факультетов без пробелов, запятых и других дополнительных символов.

Ответ: _____.

7 На рисунках изображены графики функций вида $y = kx + b$. Установите соответствие между графиками функций и знаками коэффициентов k и b .

ФУНКЦИИ



КОЭФФИЦИЕНТЫ

- 1) $k > 0, b < 0$
- 2) $k < 0, b > 0$
- 3) $k < 0, b < 0$
- 4) $k > 0, b > 0$

В таблице под каждой буквой укажите соответствующий номер.

Ответ:

А	Б	В	Г

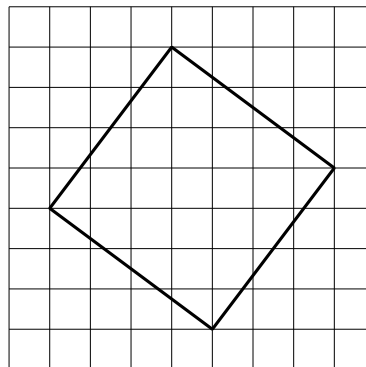
8 Гитарист Андрей выступает на концертах только со своей гитарой. Также Андрей обязательно берёт с собой гитару в поход. Выберите утверждения, которые верны при приведённых условиях.

- 1) Каждый раз, когда Андрей берёт с собой гитару, он будет выступать на концерте.
- 2) В любое время, когда Андрей не в походе, у него нет с собой гитары.
- 3) Если Андрей без гитары, значит, он не в походе.
- 4) Если в субботу Андрей будет выступать на концерте, посвящённом Дню Победы, то он в субботу будет со своей гитарой.

В ответе запишите номера выбранных утверждений без пробелов, запятых и других дополнительных символов.

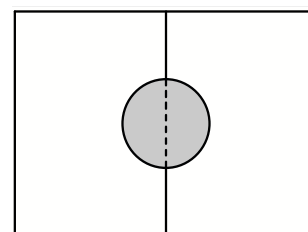
Ответ: _____.

- 9** План местности разбит на клетки. Каждая клетка обозначает квадрат $1\text{ м} \times 1\text{ м}$. Найдите площадь участка, выделенного на плане. Ответ дайте в квадратных метрах.



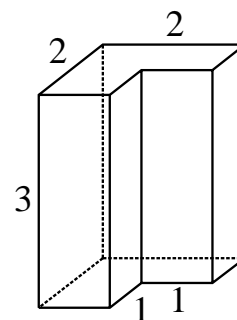
Ответ: _____.

- 10** Два садовода, имеющие прямоугольные участки размерами 25 м на 30 м с общей границей, договорились и сделали общий круглый пруд площадью 160 квадратных метров (см. чертёж), причём граница участков проходит точно через центр пруда. Какова площадь (в квадратных метрах) оставшейся части участка каждого садовода?



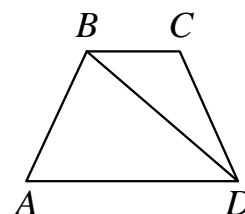
Ответ: _____.

- 11** Деталь имеет форму изображённого на рисунке многогранника (все двугранные углы прямые). Числа на рисунке обозначают длины рёбер в сантиметрах. Найдите объём этой детали. Ответ дайте в кубических сантиметрах.



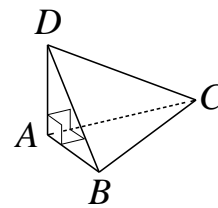
Ответ: _____.

- 12** В трапеции $ABCD$ известно, что $AB = CD$, $\angle BDA = 45^\circ$ и $\angle BDC = 23^\circ$. Найдите угол ABD . Ответ дайте в градусах.



Ответ: _____.

- 13** В треугольной пирамиде $ABCD$ рёбра AB , AC и AD взаимно перпендикулярны. Найдите объём этой пирамиды, если $AB = 5$, $AC = 24$ и $AD = 3$.



Ответ: _____.

- 14** Найдите значение выражения $\frac{1,8 - 9,6}{3,9}$.

Ответ: _____.

- 15** В школе мальчики составляют 56 % числа всех учащихся. Сколько в этой школе всего учащихся, если мальчиков в ней на 54 человека больше, чем девочек?

Ответ: _____.

- 16** Найдите значение выражения $14\sqrt{3} \cos 750^\circ$.

Ответ: _____.

- 17** Найдите корень уравнения $2^{5x-6} \cdot 2^{1-4x} = 1$.

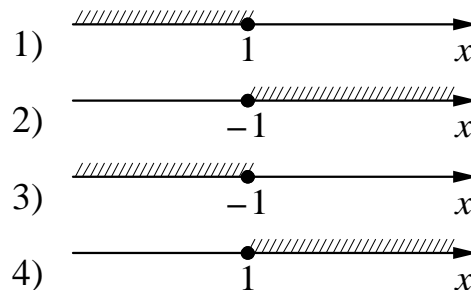
Ответ: _____.

18 Каждому из четырёх неравенств в левом столбце соответствует одно из решений в правом столбце. Установите соответствие между неравенствами и их решениями.

НЕРАВЕНСТВА

- А) $2^x \geq 2$
- Б) $0,5^x \geq 2$
- В) $0,5^x \leq 2$
- Г) $2^x \leq 2$

РЕШЕНИЯ



Впишите в приведённую в ответе таблицу под каждой буквой соответствующий решению номер.

Ответ:

А	Б	В	Г

19 Найдите четырёхзначное число, кратное 12, произведение цифр которого равно 10. В ответе укажите какое-нибудь одно такое число.

Ответ: _____.

20 Имеется два сплава. Первый сплав содержит 10 % меди, второй — 50 % меди. Из этих двух сплавов получили третий сплав, содержащий 15 % меди. Масса первого сплава равна 70 кг. Найдите массу третьего сплава. Ответ дайте в килограммах.

Ответ: _____.

21 Клетки таблицы 3×7 раскрашены в чёрный и белый цвета так, что получилось 17 пар соседних клеток разного цвета и 11 пар соседних клеток чёрного цвета. (Клетки считаются соседними, если у них есть общая сторона.) Сколько пар соседних клеток белого цвета?

Ответ: _____.

Тренировочная работа №1 по МАТЕМАТИКЕ

11 класс

3 октября 2023 года

Вариант МА2310104

Выполнена: ФИО _____ класс _____

Инструкция по выполнению работы

Работа по математике включает в себя 21 задание.

На выполнение работы отводится 3 часа (180 минут).

Ответы к заданиям записываются в виде числа или последовательности цифр в поле ответа в тексте работы.

При выполнении заданий можно пользоваться черновиком. Записи в черновике не учитываются при оценивании работы. Баллы, полученные Вами за выполненные задания, суммируются. Постарайтесь выполнить как можно больше заданий и набрать наибольшее количество баллов.

Желаем успеха!

Ответом к каждому заданию является конечная десятичная дробь, целое число или последовательность цифр. Запишите ответы к заданиям в поле ответа в тексте работы.

- 1** Каждый день во время конференции расходуется 90 пакетиков чая. Конференция длится 7 дней. В пачке чая 100 пакетиков. Какого наименьшего количества пачек чая хватит на все дни конференции?

Ответ: _____.

- 2** Установите соответствие между величинами и их возможными значениями: к каждому элементу первого столбца подберите соответствующий элемент из второго столбца.

ВЕЛИЧИНЫ

ЗНАЧЕНИЯ

- | | |
|---------------------------------|---------------------------|
| А) объём комнаты | 1) 78 200 км ³ |
| Б) объём воды в Каспийском море | 2) 75 м ³ |
| В) объём ящика для овощей | 3) 50 л |
| Г) объём банки сметаны | 4) 0,5 л |

В таблице под каждой буквой, соответствующей величине, укажите номер её возможного значения.

Ответ:

А	Б	В	Г

- 3** В таблице показано расписание пригородных электропоездов по направлению Москва Савёловская – Большая Волга (город Дубна).

Номер электропоезда	Москва Савёловская	Большая Волга	Время в пути
1	17:30	19:20	1:50
2	18:18	20:39	2:21
3	19:39	21:53	2:14
4	20:44	23:10	2:26
5	22:00	23:49	1:49

Какой из электропоездов Москва Савёловская – Дубна проводит в пути меньше всего времени? В ответе укажите номер этого электропоезда.

Ответ: _____.

- 4 Энергия заряженного конденсатора W (в Дж) вычисляется по формуле $W = \frac{CU^2}{2}$, где C — ёмкость конденсатора (в Ф), а U — разность потенциалов на обкладках конденсатора (в В). Найдите W (в Дж), если $C = 10^{-4}$ Ф и $U = 20$ В.

Ответ: _____.

- 5 Вероятность того, что батарейка бракованная, равна 0,02. Покупатель в магазине выбирает случайную упаковку, в которой две такие батарейки. Найдите вероятность того, что обе батарейки окажутся бракованными.

Ответ: _____.

- 6 В таблице 1 приведены минимальные баллы ЕГЭ по четырём предметам, необходимые для подачи документов на факультеты 1–6.

Таблица 1

Предмет Факультет	математика (проф. ур.)	русский язык	обществознание	иностраннный язык (английский)
1	50	50	50	50
2	27	36	45	60
3	60	50	50	60
4	40	61	42	22
5	42	36	42	22
6	36	50	60	40

В таблице 2 приведены данные о баллах ЕГЭ по четырём предметам абитуриента В.

Таблица 2

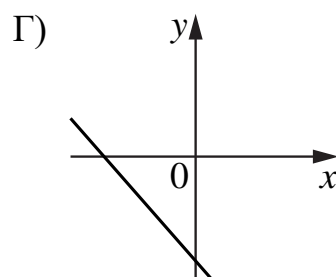
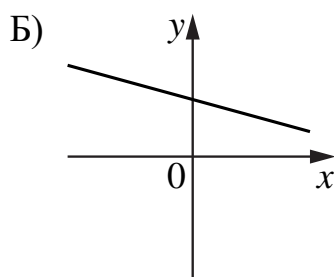
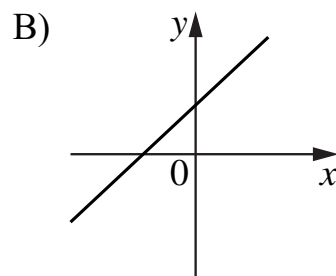
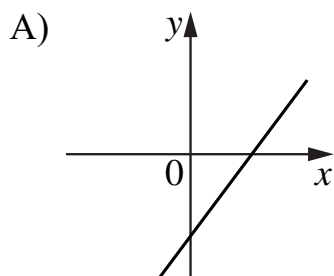
Предмет	математика (проф. ур.)	русский язык	обществознание	английский язык
Баллы	40	76	48	82

Выберите факультеты, на которые может подавать документы абитуриент В. В ответе укажите номера всех выбранных факультетов без пробелов, запятых и других дополнительных символов.

Ответ: _____.

7 На рисунках изображены графики функций вида $y = kx + b$. Установите соответствие между графиками функций и знаками коэффициентов k и b .

ФУНКЦИИ



КОЭФФИЦИЕНТЫ

- 1) $k > 0, b > 0$
- 2) $k < 0, b < 0$
- 3) $k > 0, b < 0$
- 4) $k < 0, b > 0$

В таблице под каждой буквой укажите соответствующий номер.

Ответ:

А	Б	В	Г

8

Игорь Витальевич часто ездит на работу на велосипеде. Он не ездит на велосипеде в те дни, когда идёт дождь или снег, а также по четвергам, когда он надевает парадный костюм. Выберите утверждения, которые верны при приведённых условиях.

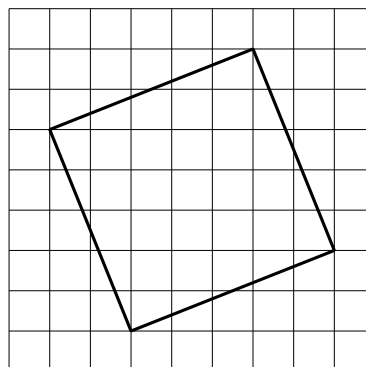
- 1) Сегодня Игорь Витальевич приехал на работу на велосипеде, значит, сегодня нет дождя.
- 2) Каждый раз, когда в течение дня ясная погода, Игорь Витальевич ездит на работу на велосипеде.
- 3) Каждый раз, когда Игорь Витальевич добирается до работы без велосипеда, он одет в парадный костюм.
- 4) Каждый раз, когда на улице идёт снег, Игорь Витальевич добирается до работы без велосипеда.

В ответе запишите номера выбранных утверждений без пробелов, запятых и других дополнительных символов.

Ответ: _____.

9

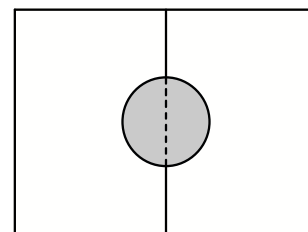
План местности разбит на клетки. Каждая клетка обозначает квадрат $1\text{ м} \times 1\text{ м}$. Найдите площадь участка, выделенного на плане. Ответ дайте в квадратных метрах.



Ответ: _____.

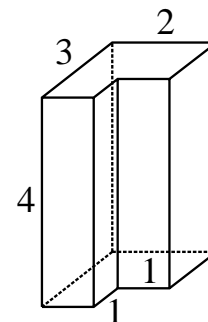
10

Два садовода, имеющие прямоугольные участки размерами 20 м на 30 м с общей границей, договорились и сделали общий круглый пруд площадью 140 квадратных метров (см. чертёж), причём граница участков проходит точно через центр пруда. Какова площадь (в квадратных метрах) оставшейся части участка каждого садовода?



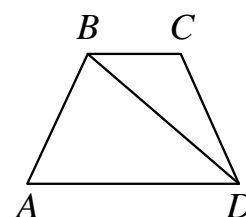
Ответ: _____.

- 11** Деталь имеет форму изображённого на рисунке многогранника (все двугранные углы прямые). Числа на рисунке обозначают длины рёбер в сантиметрах. Найдите объём этой детали. Ответ дайте в кубических сантиметрах.



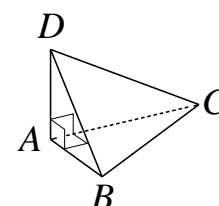
Ответ: _____.

- 12** В трапеции $ABCD$ известно, что $AB = CD$, $\angle BDA = 52^\circ$ и $\angle BDC = 26^\circ$. Найдите угол ABD . Ответ дайте в градусах.



Ответ: _____.

- 13** В треугольной пирамиде $ABCD$ рёбра AB , AC и AD взаимно перпендикулярны. Найдите объём этой пирамиды, если $AB = 2$, $AC = 15$ и $AD = 11$.



Ответ: _____.

- 14** Найдите значение выражения $\frac{6,8 - 4,7}{1,4}$.

Ответ: _____.

- 15** В школе мальчики составляют 55 % числа всех учащихся. Сколько в этой школе всего учащихся, если мальчиков в ней на 60 человек больше, чем девочек?

Ответ: _____.

16 Найдите значение выражения $27\sqrt{2} \sin 765^\circ$.

Ответ: _____.

17 Найдите корень уравнения $6^{2x-6} \cdot 6^{5-3x} = 216$.

Ответ: _____.

18 Каждому из четырёх неравенств в левом столбце соответствует одно из решений в правом столбце. Установите соответствие между неравенствами и их решениями.

НЕРАВЕНСТВА

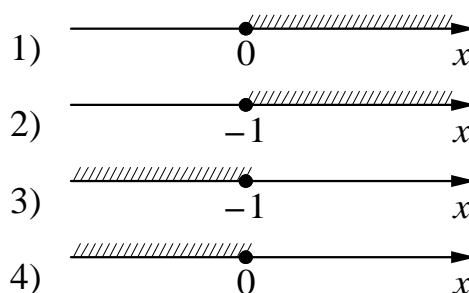
А) $2^x \geq 1$

Б) $2^x \leq 1$

В) $0,5^x \leq 2$

Г) $0,5^x \geq 2$

РЕШЕНИЯ



Впишите в приведённую в ответе таблицу под каждой буквой соответствующий решению номер.

Ответ:

А	Б	В	Г

19 Найдите четырёхзначное число, кратное 12, произведение цифр которого равно 60. В ответе укажите какое-нибудь одно такое число.

Ответ: _____.

20 Имеется два сплава. Первый сплав содержит 5 % меди, второй — 40 % меди. Из этих двух сплавов получили третий сплав, содержащий 10 % меди. Масса первого сплава равна 60 кг. Найдите массу третьего сплава. Ответ дайте в килограммах.

Ответ: _____.

21 Клетки таблицы 6×6 раскрашены в чёрный и белый цвета так, что получилось 30 пар соседних клеток разного цвета и 16 пар соседних клеток чёрного цвета. (Клетки считаются соседними, если у них есть общая сторона.) Сколько пар соседних клеток белого цвета?

Ответ: _____.